



# Comparemos problemas-historia de suma y de resta

Descubramos en qué se parecen y en qué son diferentes.



## Actividad 1

### Patos en el estanque



5 patos nadan en el estanque.

4 más llegan.

¿Cuántos hay ahora?

\_\_\_\_\_

-----

\_\_\_\_\_

## Actividad 2

### Los patos nadan hacia la orilla

9 patos nadan en el estanque.

4 se van.

¿Cuántos nadan ahora?

---

---

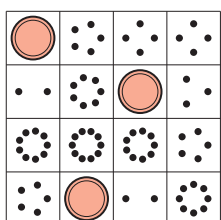
---

## Actividad 3


### Centros: Momento de escoger

Escoge un centro.

Bingo



Dedos matemáticos




Torres para restar



Tableros de 5



Historias matemáticas



Contar colecciones





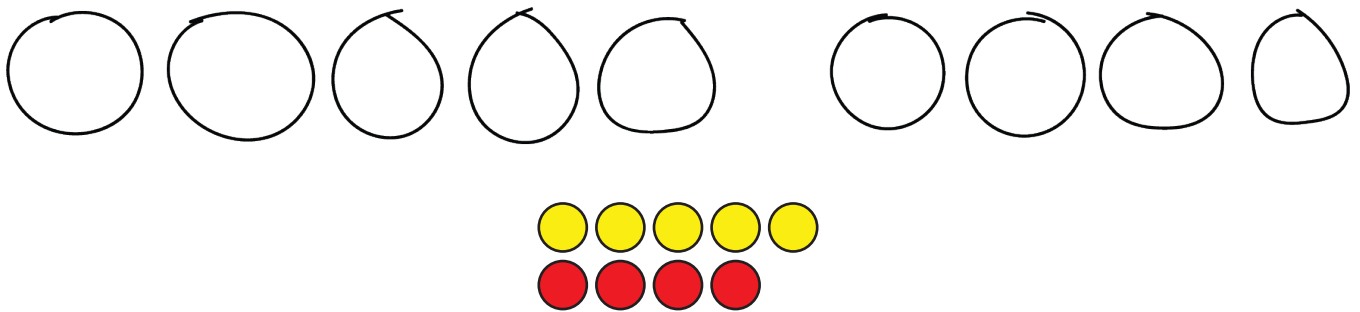
## Resumen de la sección B

Podemos actuar y hacer dibujos sobre problemas-historia.

Hay 5 patos nadando en el estanque.

4 más llegan.

¿Cuántos hay ahora?



Podemos restar.

Hay 5 balones en el patio de recreo.

Diego llevó 5 para adentro.

¿Cuántos quedan ahora?

