



Relacionemos contar con sumar

Sumemos hasta 10.

Calentamiento

Conversación numérica: 2 o 3 más

Encuentra mentalmente el valor de cada expresión.

- $4 + 2$

- $5 + 2$

- $5 + 3$

- $6 + 3$



Actividad 1

Más "Revuelve y saca"

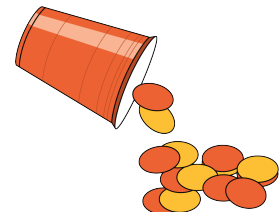
Algunos amigos juegan "Revuelve y saca".

1. Priya saca 7 fichas rojas y 2 fichas amarillas.
¿Cuántas fichas sacó en total?
Muestra cómo pensaste. Usa dibujos, números o palabras.

Ecuación: _____

2. Tyler saca 5 fichas rojas y 3 fichas amarillas.
¿Cuántas fichas sacó en total?
Muestra cómo pensaste. Usa dibujos, números o palabras.

Ecuación: _____



3. Clare saca 2 fichas rojas y 8 fichas amarillas.
¿Cuántas fichas sacó en total?
Muestra cómo pensaste. Usa dibujos, números o palabras.

Ecuación: _____

4. Han saca 3 fichas rojas y 6 fichas amarillas.
¿Cuántas fichas sacó en total?
Muestra cómo pensaste. Usa dibujos, números o palabras.

Ecuación: _____

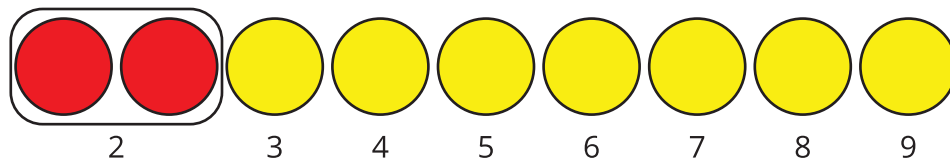


Actividad 2

¿Los dos son correctos?

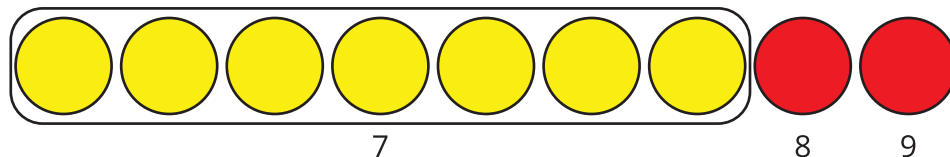
Kiran y Clare encuentran el valor de $2 + 7$.

Kiran cuenta desde 2.



$$2 + 7 = \boxed{9}$$

Clare cuenta desde 7.



$$7 + 2 = \boxed{9}$$

¿Por qué los dos métodos son correctos?

Muestra cómo pensaste. Usa dibujos, números o palabras.

Actividad 3

Practiquemos sumas hasta 10

Encuentra el valor de cada suma.

1. $7 + 2 =$

2. $3 + 5 =$

3. $= 8 + 2$

4. $3 + 6 =$

5. $5 + 2 =$

6. $= 4 + 4$

7. $2 + 6 =$

8. $= 1 + 9$