



# Suma con una decena

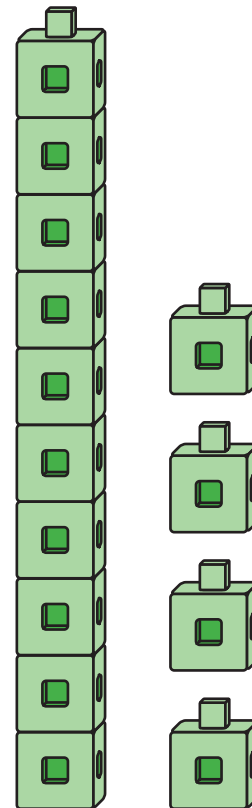
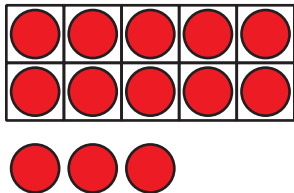
Usemos una decena para formar números del 11 al 19.

## Calentamiento

## Observa y pregúntate: Números del 11 al 19

¿Qué observas?

¿Qué te preguntas?

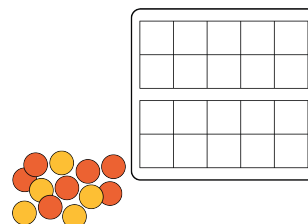


## Actividad 1

### Hagámoslo: Números del 11 al 19 y tableros de 10

Usa tus tableros de 10 para construir números del 11 al 19.

Escribe una ecuación que muestre el número que construiste.



número del 11 al 19	ecuación

Si tienes tiempo, escribe otra ecuación para cada uno de los números del 11 al 19.

## Actividad 2

### Ecuaciones con una decena

En cada caso, encuentra el número que hace que la ecuación sea verdadera.

Muestra cómo pensaste. Usa dibujos, números o palabras.

1.  $14 = 10 + \square$

2.  $10 + 5 = \square$

3.  $16 = \square + 6$

4.  $10 + \square = 12$

5.  $\square + 3 = 13$

6.  $13 = \square + 10$