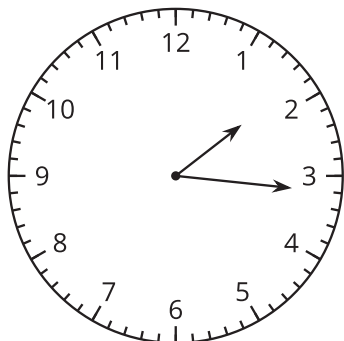
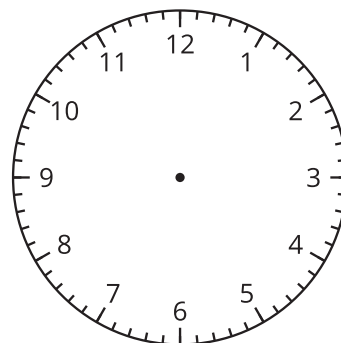


Section C: Practice Problems

1. a. Han dibuja este reloj y dice que muestra las 2:16 p.m. ¿Estás de acuerdo con Han? Explica tu razonamiento.



- b. Dibuja las manecillas en este reloj para mostrar las 5:55 p.m.



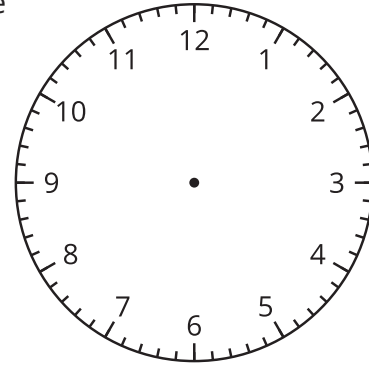
(de la Unidad 6, Lección 9)

2. Mai se fue a pasear a su perro a las 6:50 a.m. y regresó a las 7:44 a.m. ¿Durante cuánto tiempo estuvo Mai paseando a su perro?

(de la Unidad 6, Lección 10)

3. Andre empezó su entrenamiento de fútbol a las 3:45 p.m. Él salió de la escuela 75 minutos antes.

- a. Muestra en el reloj la hora a la que Andre salió de la escuela.
- b. Andre estuvo en entrenamiento de fútbol durante 110 minutos. ¿A qué hora terminó el entrenamiento? Explica o muestra cómo razonaste.



(de la Unidad 6, Lección 11)

4. Exploración

- a. Normalmente, ¿a qué hora te acuestas a dormir en la noche?
- b. Normalmente, ¿a qué hora te levantas en la mañana?
- c. ¿Cuántos minutos pasas en la cama? Explica o muestra tu razonamiento.

5. Exploración

Priya dibujó este reloj para mostrar las 3:15.

¿Piensas que el reloj de Priya es correcto? Explica o muestra cómo razonaste.

