



Construyamos y contemos con figuras sólidas

Construyamos y contemos con figuras sólidas.



Exploración de estimación: ¿Cuántos cubos?

1. Escribe una estimación que sea:

muy baja	razonable	muy alta

2. Escribe una estimación que sea:

muy baja	razonable	muy alta

Actividad 1

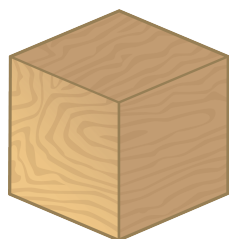
Una torre alta

¿Cuántas usaste?

Actividad 2

¿Qué pueden hacer con estas figuras?


1. 5 cubos



4 cilindros




6 conos

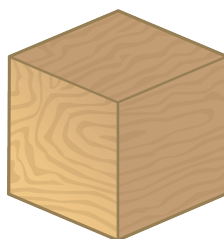


¿Cuántas figuras usaste?

2. 3 conos



4 cubos



5 cilindros



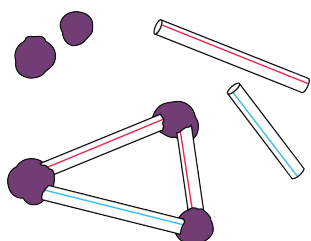
¿Cuántas usaste?

Actividad 3


Centros: Momento de escoger

Escoge un centro.


Construye figuras



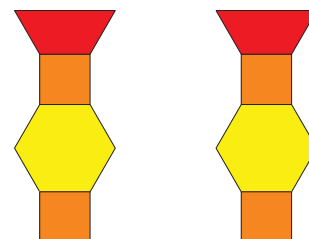
Bloques sólidos geométricos



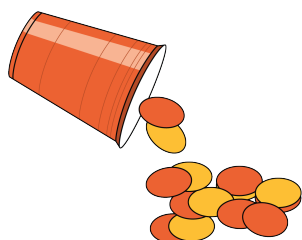
Contar colecciones



Haz una como la mía



Revuelve y saca







Resumen de la sección B

Podemos formar figuras sólidas y hablar sobre ellas.

cubo



cono




cilindro



esfera



Vemos figuras sólidas.



Usamos figuras sólidas.

