



# Juntemos figuras planas



Construyamos una nueva figura usando figuras más pequeñas.

## Calentamiento

### Observa y pregúntate: Perros

¿Qué observas?

¿Qué te preguntas?




## Actividad 2

### Imágenes de figuras

1. Construye algo usando las fichas geométricas.

Traza lo que hiciste. Escribe cuántas fichas geométricas usaste.



2. Arma el mismo objeto que hiciste. Usa fichas geométricas diferentes.

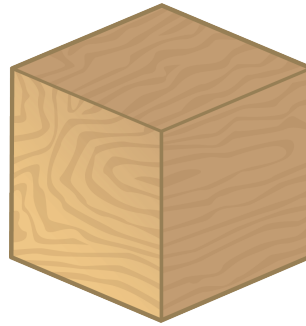

Escribe cuántas fichas geométricas usaste.

Si te queda tiempo: construye el mismo objeto otra vez usando la mayor cantidad de fichas geométricas que puedas.

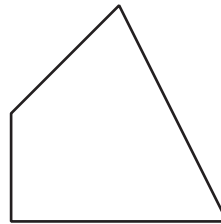
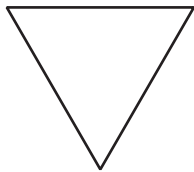
Escribe cuántas fichas geométricas usaste.

## Resumen de la sección A

Aprendimos sobre figuras sólidas.



Aprendimos sobre figuras planas.

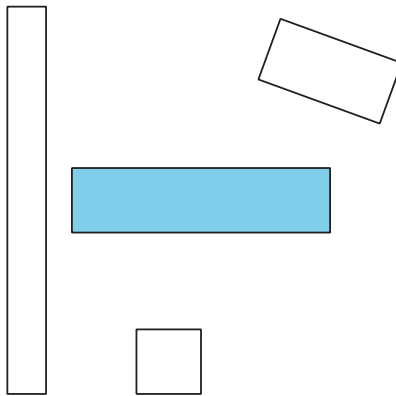


Describimos y nombramos figuras.

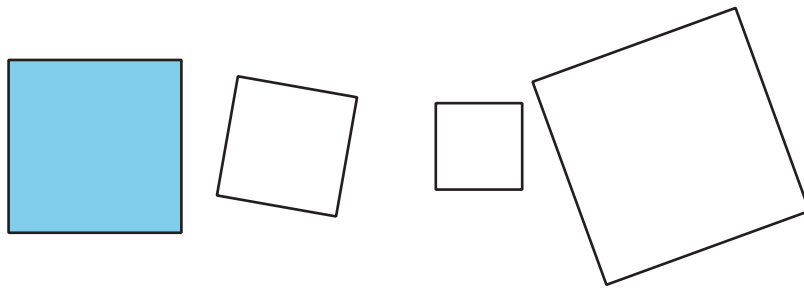
Esta figura tiene 3 lados rectos y 3 esquinas.  
Entonces, es un **triángulo**.



Estas figuras tienen 4 lados rectos y 4 esquinas cuadradas.  
Entonces, todos son **rectángulos**.



Estas figuras tienen 4 lados rectos con la misma longitud y 4 esquinas cuadradas.  
Entonces, todos son **cuadrados**.



Construimos figuras grandes usando figuras más pequeñas.

