



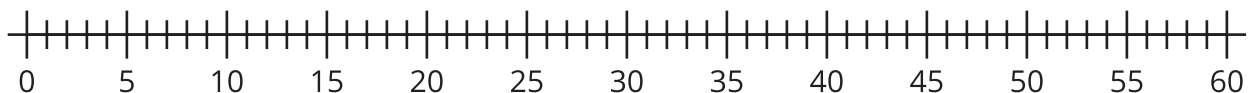
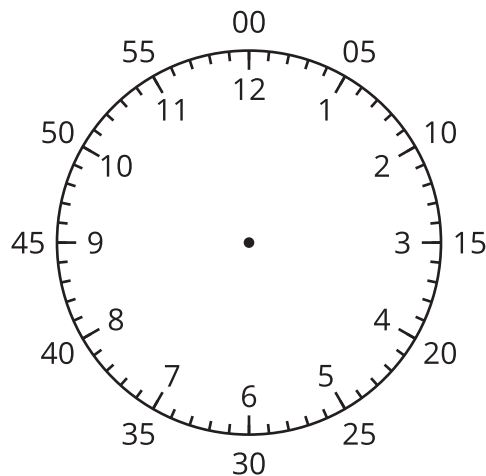
Contemos de 5 en 5 para leer la hora

Leamos la hora.

Calentamiento

Observa y pregúntate: La recta numérica y el reloj

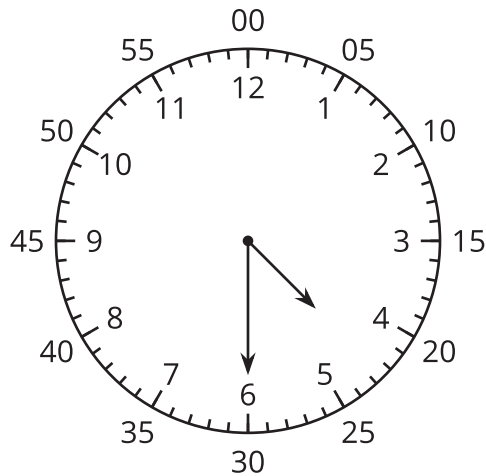
¿Qué observas? ¿Qué te preguntas?



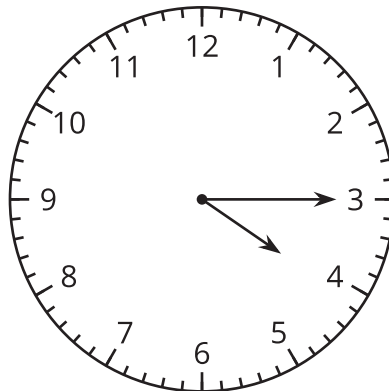
Actividad 1

Contemos de 5 en 5 en el reloj

1. Discute 2 formas de decir la hora que muestra este reloj.



2. ¿Qué hora muestra este reloj?



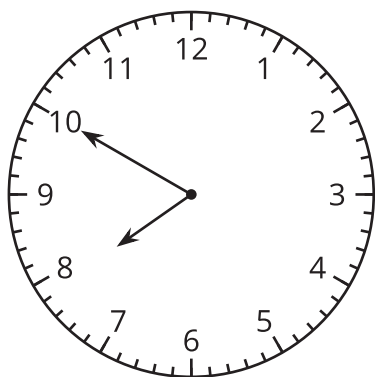
3. Lee la hora en cada tarjeta de reloj con tu pareja. Ordena los relojes según las horas que muestran.

Actividad 2

Escribamos la hora

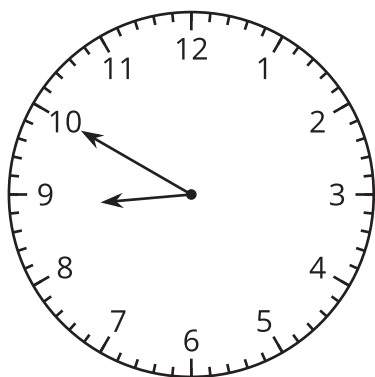
En cada caso, escribe la hora que muestra el reloj.

1.



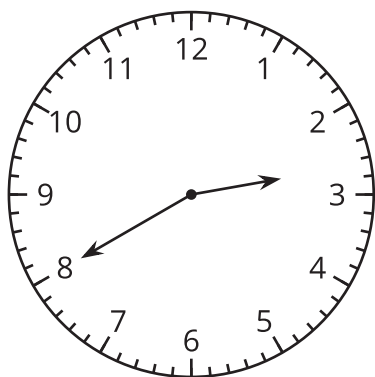
	:	
—	:	—

2.



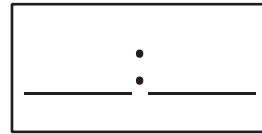
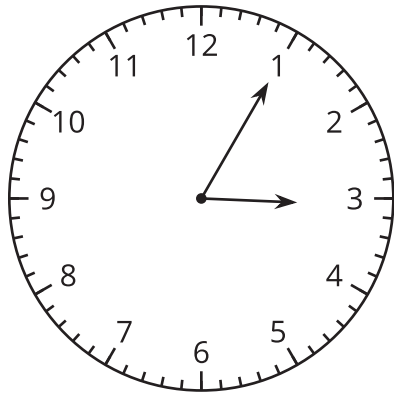
	:	
—	:	—

3.

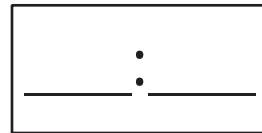
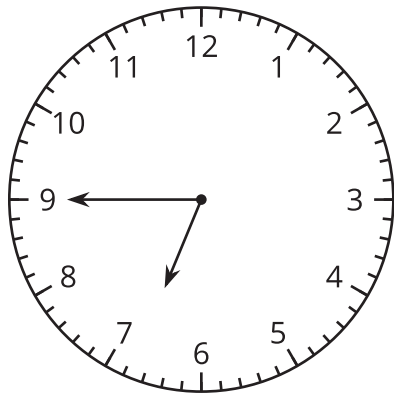


	:	
—	:	—

4.



5.



6.

