



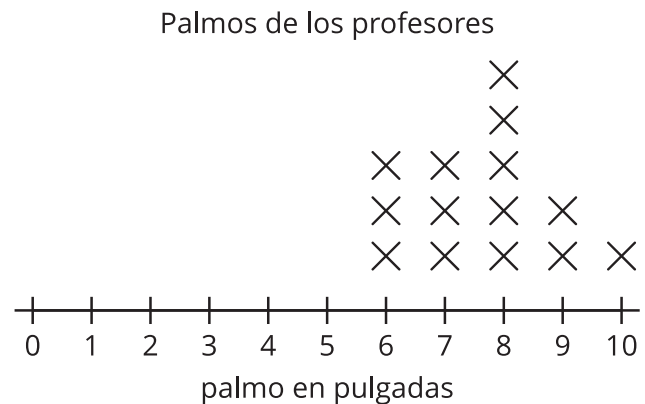
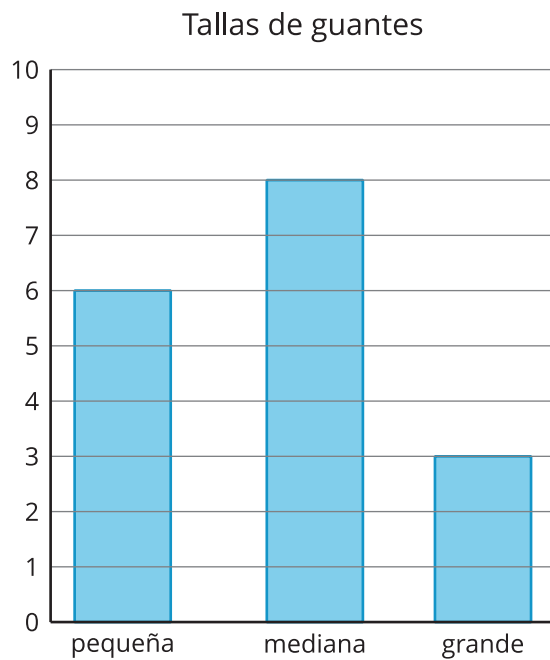
# ¿Qué es un diagrama de puntos?

Aprendamos una nueva forma de representar datos.

## Calentamiento

### Observa y pregúntate: Gráficas “a la mano”

¿Qué observas? ¿Qué te preguntas?

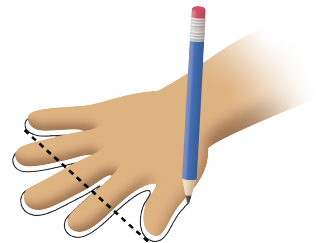


## Actividad 1

### Midamos nuestros palmos

1. Traza tu mano (separa y estira tus dedos).
2. Dibuja una línea desde tu dedo pulgar hasta tu dedo meñique. Esta línea representa tu palmo. Mide la longitud de tu palmo en pulgadas.

Mi palmo mide \_\_\_\_\_ pulgadas.



## Actividad 2

### Interpretemos nuestros datos numéricos

1. ¿Cuál es el palmo más largo de tu clase?
2. ¿Cuál es el palmo más corto?
3. Escribe otra afirmación sobre los palmos. Usa el diagrama de puntos.

---

---

---



