



# Midamos en mitades y en cuartos de pulgada

Midamos longitudes en mitades de pulgada y en cuartos de pulgada.

Calentamiento

## Observa y pregúntate: Reglas

Mira las reglas que has usado para medir y la regla que te dio tu profesor.

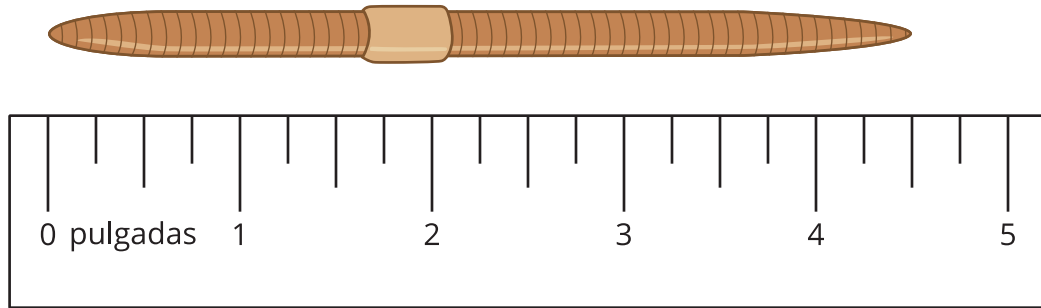
¿Qué observas? ¿Qué te preguntas?



## Actividad 1

### Mitades y cuartos

1. Kiran y Jada miden la longitud de una lombriz.




- Kiran dice que la lombriz mide  $4\frac{2}{4}$  pulgadas de largo.
- Jada dice que la lombriz mide  $4\frac{1}{2}$  pulgadas de largo.


Usa la regla para explicar por qué ambas medidas son correctas.

2. Mide la longitud de cada lombriz.

**A**




**B**



**C**



**D**



## Actividad 2

### Midamos y describamos

1. Usa la regla que recibiste hoy para medir algunos objetos del salón.

Busca al menos un objeto con una longitud que sea un número entero de pulgadas y busca por lo menos 3 objetos con longitudes que no sean números enteros de pulgadas.

objeto	longitud

2. Intercambia la lista con la de otro grupo. Busca una longitud que se pueda escribir de otra forma.

objeto	longitud	longitud equivalente