




Formemos 10 y separemos el 10

Formemos y separemos grupos de 10.



Exploración de estimación: 5 y 5 forman 10

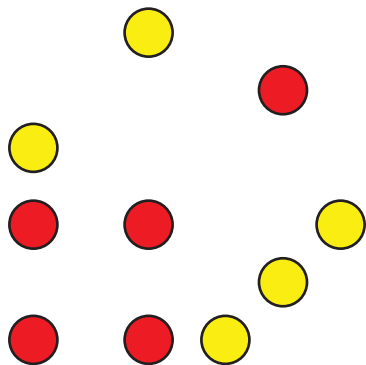
1. ¿Cuántos hay?



Escribe una estimación que sea:

muy baja	razonable	muy alta

2. ¿Cuántos hay?



Escribe una estimación que sea:

muy baja	razonable	muy alta

Actividad 2

Formemos 10 y separemos el 10

- $7 + 3 = 10$

- $10 = 4 + 6$

- $9 + 1 = 10$

- $10 = 2 + 8$



• $\underline{\quad\quad} + \underline{\quad\quad} = 10$



• $10 = \underline{\quad\quad} + \underline{\quad\quad}$



• $\underline{\quad\quad} + \underline{\quad\quad} = 10$



• $\underline{\quad\quad} + \underline{\quad\quad} = 10$

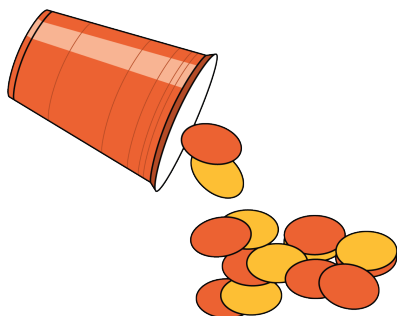


Actividad 3

Centros: Momento de escoger

Escoge un centro.


Revuelve y saca



Carrera con números



Agarra y cuenta



¿Qué hay a mis espaldas?



Fichas geométricas

